



Sprawdzian 3.

Rzeczpospolita i jej upadek

grupa A

.....		
imię i nazwisko		
..... / 21
klasa	liczba punktów	ocena

Zadanie 1. (0–2)

Przyjrzyj się mapie i wykonaj polecenia.



— granice Rzeczpospolitej przed I rozbiorem

Tereny zajęte przez:

Rosję
 Prusy
 Austrię] w I rozbiornie

Tereny zajęte przez:

Rosję
 Prusy] w II rozbiornie

Tereny zajęte przez:

Rosję
 Prusy
 Austrię] w III rozbiornie

a) Podaj wiek, w którym doszło do wydarzeń ukazanych na mapie.

.....

b) Wyjaśnij krótko, dlaczego doszło do tych wydarzeń.

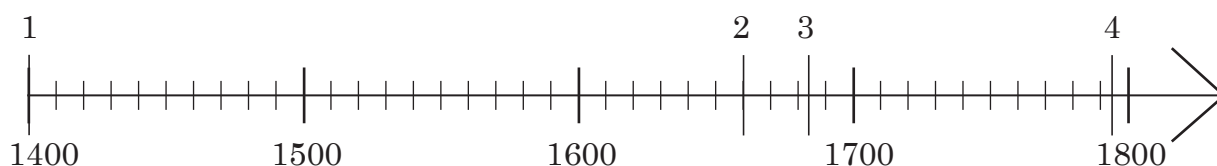
.....

.....

Zadanie 2. (0–4)

Wydarzeniom w tabelce przyporządkuj daty zaznaczone na osi czasu. W odpowiednich miejscach tabelki wpisz cyfry 1, 2, 3 i 4.


a)	bitwa pod Wiedniem	
b)	odnowienie Akademii Krakowskiej	
c)	wybuch powstania kościuszkowskiego	
d)	podpisanie pokoju kończącego konflikt ze Szwedami określany jako potop	



Zadanie 3. (0–3)

Zaznacz trzy informacje związane z postacią przedstawioną na ilustracji.

- Był astronomem.
- Pochodził z Torunia.
- „Wstrzymał Ziemię, ruszył Słońce”.
- Studiował w Akademii Krakowskiej.
- Był uczonym zajmującym się biologią.



Domena publiczna

Mikołaj Kopernik

Zadanie 4. (0–3)

Podane niżej zdania zakwalifikuj jako prawdę lub fałsz. Dopisz obok nich w kolejnych rubrykach tabelki odpowiednią literę: P (prawda) lub F (fałsz).

a)	Husaria to machina oblężnicza używana do przełamywania linii wroga lub rozrywania jego szyków.	
b)	Autorem słów <i>Pieśni Legionów Polskich we Włoszech</i> był Józef Wybicki.	
c)	W okresie powstania styczniowego na ziemiach zaboru rosyjskiego działało utworzone przez Polaków tajne państwo.	

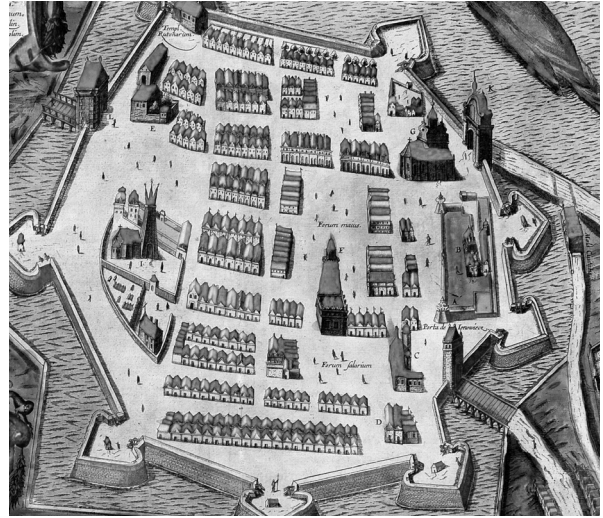
Zadanie 5. (0–3)

Przyjrzyj się ilustracjom, a następnie zaznacz prawidłowe odpowiedzi.



Domena publiczna

1. Obrona Jasnej Góry



Domena publiczna

2. Plan Zamościa



Domena publiczna

3. Patrol powstańczy



Domena publiczna

4. Konstytucja 3 maja

a) Wydarzenie ukazane na ilustracji oznaczonej numerem 1

- nastąpiło w XVI w.
- jest związane z potopem szwedzkim.
- doprowadziło do upadku państwa polskiego.
- jest związane z działalnością Jana Zamoyskiego.

b) Ilustracja przedstawiająca próbę naprawy państwa polskiego została oznaczona numerem

1. 2. 3. 4.

c) Ilustracja ukazująca wydarzenie, do którego doszło w okresie zaborów, została oznaczona numerem

1. 2. 3. 4.

Zadanie 6. (0–2)

Napisz, o kim mowa.

a) Polski dowódca wojskowy. Podczas potopu prowadził ze Szwedami wojnę szarpaną, czyli partyzancką.

.....

b) Król Polski w latach 1674–1696. Najwybitniejszy wódz w dziejach Rzeczypospolitej. Pod jego dowództwem Polacy odnieśli zwycięstwo nad Turkami w czasie odsieczy Wiednia.

.....

Zadanie 7. (0–2)

Przeczytaj tekst źródłowy i odpowiedz na pytania.

Do współobywateli! Wierny ojczyźnie mojej do ostatniego momentu walczyłem za jej wolność pod nieśmiertelnym Kościuszką. Upadła ona pod przemocą i nie zostaje nam jak pocieszające wspomnienie, żeśmy krew przelewali za ziemię przodków naszych [...]. Polacy, nadzieja powstaje [...], Francja zwycięża, ona się bije za sprawę narodów [...], idźmy pod jej chorągwie [...]. Już oficerowie i żołnierze [...] są ze mną; już się bataliony formują; przybywajcie koledzy [...].

W kwaterze głównej w Mediolanie [...]. Generał [...] polski, Jan Dąbrowski.

Melania Sobańska-Bondaruk, Stanisław Bogusław Lenard, *Wiek XIX w źródłach*,
Wydawnictwo Naukowe PWN, Warszawa 1998, s. 22–23.

a) Podaj nazwę wydarzenia, o którym wspomina autor w pierwszym zdaniu tekstu.

.....

b) Wyjaśnij, do czego namawia Polaków autor odezwy.

.....

.....

Zadanie 8. (0–2)

Wyjaśnij, jakie były skutki wojen prowadzonych na obszarze Rzeczypospolitej w XVII w.

.....

.....

.....